



جامعة البصرة
كلية الادارة والاقتصاد / قسم العلوم المالية والمصرفية
اسئلة امتحان الكورس الأول
للعام الدراسي ٢٠٢٣-٢٠٢٤
الدراسي



الزمن : ساعتين

التاريخ : ٢٠٢٤/٨/٤

المرحلة : الأولى

المادة : حقوق الإنسان

ملاحظة: الإجابة عن خمسة أسئلة فقط ولكل سؤال (١٠) درجات :

س ١ / أجب بعلامة (صح) أو (خطأ) ثم صحح الخطأ أن وجد :

- ١- حق الحياة من أهم الحقوق المدنية وتؤكد عليها الشرائع السماوية .
- ٢- يعتبر ميثاق الأمم المتحدة أول معاهد دولية متعددة الأطراف تقر مبدأ حقوق الإنسان والذي يعد نقطة تحول على الصعيد الدولي .
- ٣- أقرت الحضارة اليونانية مبدأ الاسترقاق .
- ٤- عرف رينيه كاسان إن حقوق الانسان فرع من فروع علم الاجتماع .
- ٥- من حقوق الإنسان في الإسلام الحقوق الخاصة والتي تمثل حقوق الطفل والمرأة والرقيق .

س ٢ / كفل التشريع الاسلامي القواعد الضامنة والحاكمة لحفظ حقوق الإنسان ومنها حق الإنسان في الحرية لأهميتها تكلم عنها.

س ٣ / أختار الإجابة الصحيحة من بين الأقواس :

- ١- هي مجموعة من الحقوق التي وجدت نتيجة تطور النظام الدولي
(حقوق التضامن - الحقوق الظاهرة - الحقوق الأساسية)
- ٢- كان التفاوت الطبقي السمة البارزة في المجتمع
(اليوناني - الأكدي - الهندي)
- ٣- دعا الى التوحيد والسلام والتسامح وتحقيق العلم للجميع
(فرعون - أخناتون - حمورابي)
- ٤- أن أساس حقوق الحريات الفكرية يعتمد على ضمان حرية أصلية هي حرية
(الرأي - الحياة - القانون)
- ٥- كتبت شريعة اشنونا باللغة
(البابلية - السومرية - الاكدية)

س ٤ / تعد حضارة العراق القديم من اقدم الحضارات التي ساهمت بحقوق الإنسان وضح ذلك معززاً اجابتك بتعريف مفهوم حقوق الإنسان.

س ٥ / للحقوق والحريات ضمانات على الصعيد الوطني داخل الدولة عدد هذه الضمانات وأشرحها .

س ٦ / عدد أنواع حقوق الإنسان واشرح اثنان منها.

د. عبد منتظر فاضل سعد
رئيس القسم

م.م. إسراء خيرى عبد
مدرس المادة

المادة : مبادئ المحاسبة
المرحلة : الاولى
الوقت : ساعتان
التاريخ : ٨/٤ / 2024



جامعة البصرة
كلية الإدارة والاقتصاد
قسم العلوم المالية والمصرفية
الدراسات المسائية الدور الثالث

أسئلة الامتحان النهائي الكورس الأول/ الدور الثاني/ للعام الدراسي 2024/2023

ملاحظة // الاجابة عن اربعة أسئلة فقط ((توزع الدرجة بالتساوي))

س1/ (ترسم المبادئ المحاسبية الاطار العام الذي يحكم الطرق والاجراءات المتبعة في اثبات العمليات المالية وفي اعداد القوائم والبيانات المالية) ماهي اهم المبادئ المحاسبية وضحها بالتفصيل .

س2 / اكمل البيانات المجهولة في الجدول التالي معتمدا على نظرية القيد المفرد :

البيانات	2021/1/1	2021/12/31
صندوق	500,000	1,000,000
قروض	250,000	500,000
بضاعة	1,000,000	2,000,000
دائنون	750,000	1,000,000
مدينون	????	1,500,000

البيانات الاضافية

- 1- صافي المركز المالي اول المدة = 2,000,000 دينار
- 2- بلغت الاضافات الى راس المال 500,000 دينار والمسحوبات ؟؟؟؟ .
- 3- صافي الدخل 1,000,000 دينار .

س3/ توفرت لديك البيانات التالية :

- 1- 2022/1/3 بدأت محلات سعد التجارية اعمالها براس مال مقداره 60,000,000 دينار اودع 40% في المصرف والباقي في الصندوق
- 2- 1/5 اشترت المحلات بضاعة بمبلغ 8,000,000 دينار دفعت نصفها نقدا والباقي بالأجل من التاجر محمود
- 3- 1/7 دفعت المحلات مصاريف شحن وتفرغ والبالغة 250,000 دينار نقدا كما دفعت مصاريف رواتب واجور عمال والبالغة 750,000 دينار بشيك .
- 4- 1/8 باعت المحلات بضاعة الى التاجر علي بمبلغ 4,000,000 دينار استلمت 25% نقدا والباقي على الحساب
- 5- 1/9 سددت المحلات نصف الدين المترتب عليها نقدا .
- 6- 1/10 سدد التاجر علي الدين المتبقي بذمته بشيك .

المطلوب:

- 1- تسجيل قيود اليومية اللازمة في دفاتر محلات سعد التجارية.
- 1- ترحيل وترصيد كل من ح/ الصندوق , ح/ دائنون , ح/ المصرف ح/ البضاعة

س4/الاتي قائمة المركز المالي لأحدى المنشآت التجارية في 2020/9/1

26,000,000 رأس المال	8,000,000 سيارات
6,500,000 دانون	4,500,000 اثاث
	3,500,000 مدينون
	9,000,000 صندوق
	7,500,000 مصرف
32,500,000	32,500,000

وقد تمت العمليات التالية خلال شهر تشرين الاول / 2020

- 1- تم ايداع مبلغ مقداره 3,000,000 دينار من حساب الصندوق الى حساب المصرف
- 2- قامت المنشأة ببيع اثاث بمقدار 2,500,000 استلمت نصفه نقدا والباقي بالأجل .
- 3- سدد احد العملاء الدين المترتب عليه نقدا والبالغ 1,000,000 دينار .
- 4- قامت المنشأة بشراء سيارة بمبلغ 6,000,000 دينار دفعت نصفه نقدا والباقي بالأجل .
- 5- قام صاحب المنشأة بزيادة رأس المال بمقدار 8,000,000 دينار اودع 35% في المصرف والباقي بالصندوق.
- 6- قام صاحب المنشأة بسحب مبلغ 2,000,000 دينار من المصرف , 1500,000 دينار اثاث لحسابه الخاص .

المطلوب // 1- بيان اثر العمليات السابقة على عناصر قائمة المركز المالي للمنشأة .

1- اعداد قائمة المركز المالي بعد اجراء العمليات المالية أعلاه

س5 / ادناه حساب الصندوق في دفتر الاستاذ ل احد المحلات التجارية بعد ترحيل جميع المبالغ اليه .

م/ تسجيل القيود التي ظهرت في دفتر اليومية قبل الترحيل .

ح/ الصندوق

دائن	مدين
1,000,000 ح/ المشتريات 2014/1/3	7,500,000 ح/ رأس المال 2014/1/1
2,500,000 ح/ الدانون 2014/1/9	1,800,000 ح/ المبيعات 2014/1/5
1,500,000 ح/ المشتريات 2014/1/12	1,350,000 ح/ المدينون 2014/1/7
5,500,000 ح/ الاثاث 2014/1/17	350,000 ح/ ايراد عقار 2014/1/15
500,000 ح/ الايجار 2014/1/20	
11,000,000	11,000,000

مع تمنياتنا بالنجاح

رئيس القسم
د. شروق خلف لطيف

مقرئ المادة
م. قاسم محمد دهش



جامعة البصرة

كلية الادارة والاقتصاد

قسم العلوم المالية والمصرفية

اسئلة الامتحان النهائي الكورس الاول للعام الدراسي 2023-2024

الدراسات والمسائرية (البريد)



المادة : مبادئ اقتصاد 1 المرحلة : الاولى التاريخ : ٢٠٢٤ / ١٠ / ٢٠٢٤ الزمن : ساعتين

ملاحظة : الاجابة عن اربعة اسئلة ، اكتب رقمين بعد الفارزة لكل سوال 12.5 درجة

س1) وضح بجدول بياني العلاقة بين نوع المرونة والتغير النسبي ومعامل المرونة ؟

س2) من بيانات الجدول التالي ؟ احسب معدل الاحلال الحدي بين السلعتين MRS_{yx}

المجموعة	A	B	C	D	E	F
X	3	5	7	9	11	13
Y	32	20	12	8	6	2

س3) ادى ارتفاع الدخل من 1000 دينار الى 2500 دينار الى زيادة الكمية المطلوبة من 600 وحدة الى 800 وحدة ؟ احسب المرونة وحدد نوعها ونوع السلعة ؟

س4) عدد العوامل المؤثرة على مرونة الطلب السعرية واطرح واحدة منها مع الرسم ؟

س5) اثبت ان منحنيات السواء لا تتقاطع مع بعضها ؟ مع التأكيد من خلال الرسم البياني ؟

الاستاذ الدكتور

منتظر فاضل البطاط

رئيس القسم

مع تمنياتنا بالنجاح

الاستاذة الدكتورة

ندوه هلال جودة

مدرس المادة

المرحلة : الاولى كلية
المادة : ادارة الاعمال
الزمن : ساعتين
التاريخ : 2024/ /



جامعة البصرة
الادارة والاقتصاد
قسم العلوم المالية والمصرفية
الدراسات المسائية

الامتحان النهائي الكورس الاول/الدور الثاني

ملاحظة الاجابة عن خمسة اسئلة فقط (توزع الدرجات بالتساوي)

س1: ماذا يقصد بمفهوم خلق القيمة (Value Creation)؟ وما علاقة هذا المفهوم بالأداء المتميز للمنظمة؟ وكيف يمكن قياس أداء المنظمة، وضح ذلك؟

س2: تتكون بيئة المنظمة من البيئة الخارجية والداخلية، وضح هذين المفهومين مع شرح مكونات (البيئة الداخلية) فقط؟

س3: اجب عما يأتي:

الفرع الاول / وضح من خلال الرسم فقط مستويات الثقافة التنظيمية؟

الفرع الثاني / يرى (هنري فايول) ان الادارة هي تفكير واعتقادات لذلك اعتنى كثيراً بنوعية الادارة واقترح اربعة عشر مبدأ للارتقاء بمستواها، عدد هذه المبادئ فقط؟

س4: تعد نظرية X ونظرية Y من النظريات السلوكية، تكلم عن هذه النظرية بالتفصيل؟

س5: ما المقصود بثقافة المنظمة؟ وماهي الادوار التي تمارسها الثقافة التنظيمية في تعزيز او تدهور الاداء المنظمي. وضح ذلك بالتفصيل معززاً اجابتك بالرسم؟

س6: ناقش بالتفصيل مضمون نظرية الحاجات الانسانية لماسلو، معززاً اجابتك بالرسم؟

أ.هـ. منتظر فاضل سعد
رئيس القسم

مع تمنياتي لكم بالنجاح

م.م. دعاء شهيد حبيب
مدرس المادة



جمهورية العراق
وزارة التعليم العالي والبحث العلمي
جامعة البصرة



كلية الإدارة والاقتصاد / قسم العلوم المالية والمصرفية

أسئلة نهاية السنة للدراسة المسائية الكورس المكثف الدور (الخريف) للعام الدراسي 2023-2024
المرحلة الاولى .. المادة : مبادئ احصاء 1 -- زمن الامتحان : ساعتين -- التاريخ : 2024 / 8 / 17

ملاحظة الاجابة عن اربعة اسئلة فقط لكل سؤال (12.5)

س1/ البيانات التالية تمثل اسعار الاسهم خلال (21) يوم لشهر نيسان لعام 2023 ستيرجس لتحديد عدد الفئات علماً ان $: \text{Log}(21) = 1.322$

45	41	10	22	20	55	30
33	49	50	11	16	46	12
18	35	59	24	17	25	40

س2 / في احد الدراسات الجغرافية تم تقسيم المجتمع الى ثلاث مناطق حسب بعض الصفات الجغرافية وتم سحب عينة عشوائية من كل منطقة كما موضحة في ادناه

المنطقة - حجم الطبقة	A	3010	C
الجزء المختار من كل منطقة	a	b	550

علماً ان حجم المجتمع 10000 وحجم العينة العشوائية 2300 احسب حجوم الطبقات والاجزاء المختارة المفقودة.

س3/ اراد مدير شركة الغاز الوطنية معرفة راي عدد من الموظفين الفنيين حول انظمة الامان والسلامة المتحققة بالشركة وكان عدد الفنيين في الشركة 800، فما هو حجم العينة الممكن الحصول عليه باعتماد اسلوب العينة المنتظمة، اذا علمت ان $K15 = 120$ و $K25 = 310$ ما هو تسلسل الفني الاخير ضمن هذه العينة .

س4/ اذا كان لديك جدول التوزيع التكراري التالي:

الفئات	f_i
1 - 7	4
8 - 14	10
15 - 21	5
22 - 28	7
29 - 35	6
36 - 42	3


المطلوب : احسب ما يأتي :

- 1- مراكز الفئات.
- 2- التكرار المنوي للفئة الثالثة والفئة الخامسة .
- 3- التكرار المتجمع النازل.

س5/ اكمل الفراغات التالية

- 1- اذا كانت حدود الفئة في جدول توزيع تكراري (15 - 10) فان الحد الاعلى الحقيقي هو
- 2- التكرار المنوي يساوي * 100 وان المجموع الكلي للتكرارات المنوية يساوي
- 3- اذا كانت البيانات تجمع وتصنف على اساس وحدات زمنية معينة فيطلق على هذا النوع من التبويبات
- 4- تعتمد المعاينة المنتظمة على تحديد نسبة والتي تحسب على وفق
- 5- اذا كان جدول التوزيع التكراري يحتوي على الفئة (120 - 100) فان مركز الفئة لها يساوي
- 6- يعتبر اسلوب المقابلة الشخصية احد مصادر جمع البيانات

مع تمنياتنا للجميع بالنجاح


د. منتظر فاضل سعد
رئيس القسم


م. احمد هشام محمد
مدرس المادة

المادة: اللغة العربية
المرحلة: الأولى
التاريخ: ٨ / ٨ / ٢٠٢٤
الوقت: ساعتان



أسئلة الامتحان النهائي
الكورس الأول - الدور الأول
للعام الدراسي ٢٠٢٣-٢٠٢٤



جامعة البصرة
كلية الإدارة والاقتصاد
قسم العلوم المالية والمصرفية

ملاحظة: أحب عن خمسة أسئلة فقط، لكل سؤال (١٠ درجات)

س١/ أعرب ما تحته خط إعراباً مفصلاً.

١. قال تعالى: ﴿وَإِذَا بُشِّرَ أَحَدُهُمْ بِالْأُنثَىٰ ظَلَّ وَجْهُهُ مُسْوَدًّا ۖ﴾
٢. قال تعالى: ﴿إِنَّ اللَّهَ عَلَىٰ كُلِّ شَيْءٍ قَدِيرٌ ۖ﴾

س٢/ مثل لما يأتي بجمل تامة مضبوطة بالشكل.

١. جمع مؤنث سالم منصوب بالكسرة.
٢. اسم مقصور مرفوع بالضمة المقدرة.
٣. مبتدأ مصدر مؤول.
٤. ممنوع من الصرف مرفوع.
٥. فعل ناسخ يفيد النفي.

س٣/ عین المبتدأ والخبر من الجمل الآتية، مبيناً نوع الخبر.

١. قال تعالى: ﴿اللَّهُ يَبْشُرُ الرَّزْقَ لِمَنْ يَشَاءُ ۖ﴾
٢. الْجَنَّةُ تَحْتَ أَقْدَامِ الْأَمْهَاتِ.
٣. الْمُسْلِمُونَ مُنْتَصِرُونَ.
٤. النجاة في الصدق.
٥. الحق منتصر.

س٤/ ضع (صح) أو (خطأ) أمام العبارات التالية، مع تصحيح الخطأ إن وجد.

١. ملء الاستمارة الخاصة بالمعلومات ..
٢. إلى كافة الدوائر والهيئات ..
٣. تقرر تسبيب الست ..
٤. إن الهدف الرئيسي من إنجاز المشروع ..
٥. كتابكم المرافقة صورته ..

س٥/ طَرِّقْ أغراض الشعر، فامتاز على معاصريه في الفخر، مَنْ هو؟ وما مناسبة قصيدته؟ اكتب خمسة أبيات منها.

س٦/ بِمِ سُمِّيت قصائد زهير بن أبي سلمى؟ ولم؟ وبماذا تميّزت؟ استشهد بخمسة أبيات مما تحفظ من معلقته.

إجابة موفقة أرجوها لكم

رئيس القسم
أ. د. منتظر فاضل البطاط

مدرس المادة
م. د. عدي فاضل عباس



ملاحظة : الإجابة عن أربعة اسئلة فقط وتوزع الدرجات بالتساوي

السؤال الأول : اجب بكلمة صح او خطأ مع تصحيح الخطأ أينما وجد

- 1- عصا التحكم يمكن من خلاله ادخال الصوت بشكل رقمي .
- 2- LINUX احد اهم أنظمة التشغيل مفتوحة المصدر.
- 3- يعتبر المودم اهم مكون مادي متمثل بوحدات اخراج وإدخال معاً في ذات الوقت.
- 4- دخول البيانات من وحدات التخزين الثانوي الى الذاكرة الرئيسية هي احد المهام الأساسية ل CPU.
- 5- Select من الإجراءات الأساسية للفأرة .

السؤال الثاني : اختر الإجابة الصحيحة لكل مما يأتي

- 1- ان اصغر وحدة في قياس سعة الذاكرة الرئيسية هي :
أ- KB ب- TB ج- MB د- لا شيء مما ذكر (انكره)
- 2- نظام التشغيل الذي يعتمد على الواجهات النصية فقط ويستقبل فقط الاحرف والرموز من المستخدم لا غير هو :
أ- Windows ب- Mac OS ج- كلا الخيارين د- لا شيء مما ذكر (اذكره)
- 3- الذاكرة التي لا تفقد محتواها عند انقطاع التيار الكهربائي بصورة مفاجئة هي :-
أ- RAM ب- MC ج- كلا الخيارين د- لا شيء مما ذكر (اذكره)
- 4- من الإجراءات الأساسية للفأرة هي :
أ- Select ب- One Click ج- كلا الخيارين د- لا شيء مما ذكر (انكره)
- 5- اغلاق جميع البرامج للمستخدم الحالي والانتقال الى مستخدم اخر يتم من خلال :
أ- Restart ب- Sleep ج- New د- لا شيء مما ذكر (انكره)

السؤال الثالث : وضح باختصار كل من المفاهيم التالية :

1. CTRL+Z 2. CTRL+V 3. MC 4. OCR 5. CTRL+X

السؤال الرابع : اجب بدقة عن اثنين مما يأتي :

- 1- CU ؟
- 2- LU ؟
- 3- USP PORT ؟

السؤال الخامس : اجب عن الآتي :

- 1- ما هو الاختلاف بين (CD - ROM) و (CD - R) و (CD - RW) وضح ذلك باختصار ؟
- 2- صنف الحواسيب حسب أماكن استخدامها ؟

(مع تمنياتنا لكم بال نجاح)

د. منتظر فاضل سعد
رئيس القسم

م.م. احمد سفي إبراهيم
مدرس المادة



جمهورية العراق
وزارة التعليم العالي والبحث العلمي
جامعة البصرة



كلية الإدارة والاقتصاد/ قسم العلوم المالية والمصرفية

أسئلة نهاية السنة للدراسات الصباحية والمسائية الدور (الرابع) للعام الدراسي 2023 - 2024
المرحلة الاولى .. المادة : مبادئ احصاء 1 -- زمن الامتحان : ساعتين -- التاريخ : ٢٣ / ٦ / 2024

ملاحظة الاجابة عن اربعة اسئلة فقط لكل سؤال (12.5)

س1/ البيانات التالية تمثل حجم استهلاك الكهرباء اليومية في احدى القطاعات خلال (25) يوم لشهر اذار لعام 2023 ولغرض الوقوف بشكل دقيق على حجم الاستهلاك اليومي، كون جدول توزيع تكراري مستخدماً طريقة يول لتحديد عدد الفئات علماً أن $\sqrt[4]{25} = 2.236$:

45	41	10	22	20
33	49	50	11	16
18	35	61	24	17
20	40	25	16	12
10	18	26	62	69

س2/ مجتمع مقسم إلى (4) طبقات تم سحب عينة عشوائية بحجم (840) وتم الحصول على البيانات التالية :

حجم الطبقة N_h	1500	B	C	2000
الجزء المختار n_h	a	200	c	140

المطلوب // حدد قيم حجوم الطبقات والأجزاء المختارة المفقودة في الجدول اذا علمت ان حجم المجتمع $N=12000$.

س3/ اراد مدير شركة الغاز الوطنية معرفة راي عدد من الموظفين الفنيين حول انظمة الامان والسلامة المتحققة بالشركة وكان عدد الفنيين في الشركة 800، وحجم العينة المطلوبة يساوي (40) للحصول على العينة الاسلوبية المنتظمة، فلو تم اختيار الفني الاول وليكن $K_1=5$ ما هو تسلسل الفني الثاني والثالث والرابع وتسلسل الفني الاخير ضمن هذه العينة .

س4/ اكمل الفراغات التالية

- 1- عند تمثيل بيانات كلفة انتاج البرميل الواحد من النفط الاسود بيانياً باستعمال المستطيل البياني، فاذا كان لدينا طول قاعدة المستطيل (50)سم و حجم كلفة اجور العاملين 130 والكلفة الاجمالية للانتاج البرميل 1500 فان مساحة قطاع اجور العاملين هي
- 2- التكرار المنوي يساوي * 100 وان المجموع الكلي للتكرارات المنوية يساوي
- 3- الحد الحقيقي الاعلى لكل فئة = مركز الفئة +
- 4- العينة الطبقيّة تعتبر من انواع العينات وتستخدم في حالة المجتمعات
- 5- اذا كان جدول التوزيع التكراري يحتوي على الفئة (46 - 40) فان مركز الفئة لها يساوي
- 6- يطلق على تبويب البيانات بالتبويب اذا كانت البيانات تجمع على اساس قارة، دولة، محافظة... الخ .

س5/ إذا كان لديك جدول التوزيع التكراري التالي:

الفئات	f_i
7 - 13	4
14 - 20	10
21 - 27	5
28 - 34	3
35 - 41	6
42 - 48	2


المطلوب : احسب ما يأتي :

- 1- مراكز الفئات.
- 2- التكرار النسبي لجميع الفئات .
- 3- التكرار المتجمع النازل.

مع تمنياتنا للجميع بالنجاح



أ.د. منتظر فاضل سعد
رئيس القسم



م.د. علي عبد الزهرة حسن
مدرس المادة



م. احمد هشام محمد
مدرس المادة

المادة : مبادئ المحاسبة
المرحلة : الاولى
الوقت : ساعتان
التاريخ : ٢٠٢٤ / ٧ / ٢٤



جامعة البصرة
كلية الإدارة والاقتصاد
قسم العلوم المالية والمصرفية
الدراسات الصباحية والمسائية

اسئلة الامتحانات النهائية للكورس الاول / الدور (الساين) للعام الدراسي ٢٠٢٣-٢٠٢٤

ملاحظة: الاجابة عن اربعة اسئلة فقط ((توزع الدرجات بالتساوي)) .

س١ // ماذا تعني بالميزانية العمومية؟ وماهي اهم عناصرها؟ وضح ذلك بالتفصيل؟

س٢/ فيما يلي قائمة المركز المالي لأحدى المنشآت التجارية في ٢٠٢٢/٦/١

13,000,000	راس المال	3,000,000	اثاث
4,000,000	دائنون	2,500,000	بضاعة
2,000,000	فروض	4,000,000	مدينون
		5,000,000	صندوق
		4,500,000	مصرف
19,000,000		19,000,000	

وقد تمت العمليات التالية خلال شهر تموز ٢٠٢٢

- ١- قرر صاحب المنشأة زيادة راس المال بقدر 6,000,000 دينار اودع 25% في المصرف والباقي بالصندوق.
- ٢- قامت المنشأة ببيع بضاعة بالأجل بمبلغ 1,000,000 دينار .
- ٣- سدد احد العملاء الدين المترتب عليه نقدا والبالغ 500,000 دينار .
- ٤- قامت المنشأة ببيع اثاث بمبلغ 2,000,000 دينار استلمت نصفه نقدا والباقي بالأجل .
- ٥- قام صاحب المنشأة بسحب مبلغ 2,000,000 دينار من الصندوق و 1,000,000 دينار من المصرف لحسابه الخاص .

المطلوب // ١- بيان اثر الصليات السابقة على عناصر قائمة المركز المالي للمنشأة .

٢- اعداد قائمة المركز المالي في 2022/7/31 .

س٣/ توفرت لديك البيانات التالية :

- ١- بدأت شركة الزهور التجارية اعمالها براس المال مقداره 30,000,000 دينار اودع ثلثه في المصرف والباقي بالصندوق .
- ٢- 5/5 اشترت الشركة بضاعة بمبلغ 5,000,000 دينار دفعت نصفها نقدا والباقي بالأجل .
- ٣- 5/7 دفعت الشركة مصاريف نقل البضاعة والبالغة 200,000 دينار نقدا كما دفعت مصاريف تامين على البضاعة بمبلغ 1,000,000 بشيك .
- ٤- 5/8 سددت الشركة 40% من الدين المترتب عليها نقدا .
- ٥- 5/10 باعت الشركة بضاعة بمبلغ 2,000,000 دينار استلمت 30% نقدا والباقي بالأجل.

م// ١- تسجيل قيود اليومية اللازمة في دفاتر شركة الزهور .

٢- ترحيل وترصيد ح/ الصندوق ، ح/ الدائنون ، ح/ المدينون ح / المصرف .

س٤/ اختر الاجابة الصحيحة لكل من العمليات المالية التالية مع بيان سبب اختيارك ؟

١- بدء التاجر حسين اعماله بالموجودات والمطلوبات التالية . 700,000 صندوق، 800,000 مصرف، 500,000 مدينون 300,000 بضاعه، 800,000 قروض، 200,000 اوراق دفع، 600,000 سيارات، 800,000 اجهزه ، 250,000 داننون فان راس مال الشركة يكون؟

أ - 2,500,000 ب - 2,450,000 ج - 3,500,000 د - لا شيء مما ذكر

٢ - اذا علمت ان راس المال اخر المدة 1,200,000 الاضافات 500,000 الخسائر (200,000) المسحوبات 400,000 فان صافي المركز المالي اول المدة هو ؟

أ - 1,300,000 دينار ب- 1,500,000 دينار ج- 1,400,000 دينار د- لا شيء مما ذكر.

٣- اقترضت شركة الرشيد من مصرف النيل بمبلغ 8,000,000 دينار لمدة تسع اشهر بمعدل فأنده سنوي يبلغ 4% فان قيد السداد يكون كالآتي

أ- 8,024,000 من ح المصرف الى مذكورين 8,000,000 ح/ القروض 24,000 ح/ الفائدة
ب- من مذكورين 8,000,000 ح/ القروض 240,000 ح/ الفائدة 8,240,000 الى ح/المصرف

ج- من مذكورين 7,760,000 ح / القروض 240,000 /الفائدة 8,000,000 الى ح/المصرف

د - لا شيء مما ذكر

٤- تم ايداع مبلغ 600,000 دينار من حساب الصندوق الى حساب المصرف فان الطرف المدين من القيد هو

ا- راس المال ب- الصندوق ج- المصرف د - لا شيء مما ذكر

٥- قامت شركة بسداد دين مترتب عليها بشيك هذه العملية ادت الى :

أ- زيادة في الموجودات ادى الى زيادة في المطلوبات

ب- زيادة في راس المال ادى الى زيادة في المطلوبات

ج- نقص في الموجودات ادى الى نقصان في المطلوبات

د- نقص في المطلوبات ادى نقص في راس المال

س٥/ نفرض ان احد المحلات تتبع طريقة القيد المفرد في تسجيل عملياتها المالية وقد امكن الحصول علي البيانات الاتية عن سنة ٢٠٢٠ .

الحساب	٢٠٢٠/١/١	٢٠٢٠/١٢/٣١
الاثاث	1000	700
البضاعة	4000	5000
مدينون	?	2000
نقدية	1200	800
داننون	1300	?

البيانات الاضافية: ١- صافي المركز المالي اول الفترة 6400 دينار واخر الفترة 7000 دينار .

٢- بلغت المسحوبات خلال الفترة 200 دينار والاضافات ؟؟؟ .

٣- صافي ربح 200 دينار .

المطلوب // استخراج البيانات الناقصة مستخدما طريقة القيد المفرد .

مع تمنياتنا بالنجاح

رئيس القسم

د. منتظر فاضل سعد

مدرس المادة

م. قاسم محمد دهش

المادة: اللغة العربية
المرحلة: الأولى
التاريخ: ٢٠٢٤ / ٨ / ٢٦
الوقت: ساعتان



أسئلة الامتحان النهائي
الكورس الأول - الدور
للعام الدراسي ٢٠٢٣-٢٠٢٤



جامعة البصرة
كلية الإدارة والاقتصاد
قسم العلوم المالية والمصرفية

ملاحظة: أجب عن خمسة أسئلة فقط، لكل سؤال (١٠ درجات)

س١ / أعرب ما تحته خط إعراباً مفصلاً.

١. قال تعالى: ﴿فَعَقَرُوهَا فَأَصْبَحُوا نَادِمِينَ﴾.
٢. قال تعالى: ﴿وَاتَّقُوا اللَّهَ إِنَّ اللَّهَ خَبِيرٌ بِمَا تَعْمَلُونَ﴾.

س٢ / للفعل ثلاثة أقسام، عددها معرفاً إياها، ثم اذكر علامة لكل واحد منهما، مع التمثيل.

س٣ / استخراج علامات الإعراب الفرعية من النصوص التالية، مبيناً السبب.

١. قال تعالى: ﴿وَكَلَّمَ اللَّهُ مُوسَى تَكْلِيمًا﴾.
٢. قال تعالى: ﴿وَقَالَتِ الْيَهُودُ النَّصَارَى الْمَسِيحُ ابْنُ اللَّهِ ..﴾.
٣. قال تعالى: ﴿وَعَدَّ اللَّهُ الْمُؤْمِنِينَ وَالْمُؤْمِنَاتِ جَنَّاتٍ تَجْرِي مِنْ تَحْتِهَا الْأَنْهَارُ ..﴾.
٤. أنتصر المسلمون في معركة بدر.
٥. مررتُ بصديقي .

س٤ / ضع (صح) أو (خطأ) أمام العبارات التالية، مع تصحيح الخطأ إن وجد.

١. كتابكم المرافقة صورته ..
٢. بالإشارة إلى كتابكم المرقم ..
٣. إن الهدف الرئيسي من إنجاز المشروع ..
٤. سواء أكان المتهم حاضراً أم غائباً ..
٥. ملء الاستمارة الخاصة بالمعلومات ..

س٥ / ما مناسبة معلقة زهير بن أبي سلمى؟ وما موضوعها الأساس، اكتب خمسة أبيات مما تحفظ منها.

س٦ / لُقِبَ بـ (شاعر الرسول) من هو؟ أوجز سيرته، ثم بين بـم امتاز شعره؟ اكتب خمسة أبيات من قصيدته.

رئيس القسم

د. منتظر فاضل البطاط

إجابة موفقة أرجوها لكم

مدرس المادة

م. د. عدي فاضل عباس



جامعة البصرة

كلية الادارة والاقتصاد

قسم العلوم المالية والمصرفية

الدراسات الصباحية والمسائية

المرحلة : الاولى

المادة : ادارة الاعمال

الزمن : ساعتين

التاريخ : 2024 / 6/27

الامتحان النهائي الكورس الاول / الدور الثاني

ملاحظة : الاجابة عن خمسة اسئلة فقط (توزع الدرجات بالتساوي)

س1: تكلم بالتفصيل عن وظائف الادارة (وظائف المدير) معزراً اجابتك بالرسم ؟

س2: اجب عما يأتي

1. عدد فقط التحديات المعاصرة في العالم اليوم ؟

2. وضح من خلال الرسم فقط مستويات الثقافة التنظيمية؟

س3 : تعد العلاقات الانسانية ودراسات هوثورن واحدة من المدارس السلوكية تكلم عن هذه المدرسة بالتفصيل ؟

س4 : وضح ما لمقصود بالمهارة، وماهي اهم المهارات المطلوب من المدير ان يتقنها، معزراً اجابتك بالرسم؟

س5 : تتكون بيئة المنظمة من البيئة الخارجية والبيئة الداخلية، وضح هذين المفهومين مع شرح مكونات (البيئة الخارجية العامة) فقط ؟

س6: ماذا يقصد بمفهوم خلق القيمة (Value Creation) ؟ وما علاقة هذا المفهوم بالاداء المتميز للمنظمة؟ وكيف يمكن قياس اداء المنظمة ؟ وضح ذلك معزراً اجابتك بالرسم

أ.د. منتظر فاضل سعد

رئيس القسم

مدرسات المادة

م.م. هبة ياسين

م.م. دعاء شهيد

م. ميادة كاظم نتوش



جامعة البصرة
كلية الادارة والاقتصاد
قسم العلوم المالية والمصرفية



اسئلة الامتحان النهائي الكورس الاول للعام الدراسي 2023-2024
الدراسات الصباحية والمسائية (إدارة)

المادة : مبادئ اقتصاد 1 المرحلة : الاولى التاريخ ٢٠٢٤ / ١٦ الزمن : ساعتين

ملاحظة : الاجابة عن اربعة اسئلة فقط ، اكتب رقمين بعد القارورة
س1) عرف المصطلحات التالية (ثلاثة فقط)
1- مفهوم علم الاقتصاد عند ادم سميث
2- المشكلة الاقتصادية
3- مرونة الطلب السعرية
4- قانون تناقص المنفعة الحدية .

س2) في التحليل الاقتصادي لإمكانات المستهلك تحصل تغيرات في الدخل والاسعار تؤدي الى انتقال في خط الميزانية ؟ وضح كيف تحصل التغيرات في الدخل معززا اجابتك بالرسم ؟

س3) اجب عن احد الفرعين التاليين

أترجع بدايات المنفعة الكمية الى القرن 19 وقد تبنت على ذلك عدة افتراضات ؟ عددها .

ب- هناك عدة عوامل تؤثر على منحى العرض وتعمل بشكل خاص بنقل منحى العرض الى اليسار او اليمين عدده هذه العوامل مع شرح واحدة منها ؟

س4) توفرت لديك البيانات التالية عن اثنين من المستهلكين وكانت الكميات المطلوبة من مادة اللحوم كالتالي .

السعر	8	6	4
الكمية المستهلكة A	15	10	5
الكمية المستهلكة B	20	14	8

المطلوب : ارسم منحى طلب المستهلك ومن ثم ارسم منحى طلب السوق

س5) توفرت لديك البيانات التالية عن المنفعة الكلية والوحدات المستهلكة من التفاح وكما في الجدول التالي :

الوحدات المستهلكة من التفاح	1	2	3	4	5	6	7	8
المنفعة الكلية	10	18	24	28	31	31	30	26

المطلوب: اوجد المنفعة الحدية معززا اجابتك بالرسم البياني للعلاقة بين المنفعة الحدية والكلية

مع تمنياتنا بالنجاح



الاستاذ الدكتور

المدرس الدكتور



الاستاذة الدكتورة

الاستاذ الدكتور

منتظر فاضل البطاط & هادي عبد الواحد

رئيس القسم

مدرس المادة

ندوه هلال جودة

مدرس المادة

احمد جاسم محمد

مدرس المادة



جامعة البصرة
كلية الادارة والاقتصاد / قسم العلوم المالية والمصرفية
اسئلة امتحان الكورس الأول
للعام الدراسي ٢٠٢٣-٢٠٢٤



المادة : حقوق الأتسان المرحلة : الأولى التاريخ : ٣٥ / ٦ / ٢٠٢٤ الزمن : ساعتين

ملاحظة: الإجابة عن خمسة أسئلة فقط :

- س ١ / أختَر الأجابة الصحيحة من بين الأقواس :
- ١- لجميع الأفراد على قدر المساواة دون تمييز لعرق ولون وجنس لتوفير الحماية منها:
(حق التعليم / حق العمل / توفير الضمان الاجتماعي) .
 - ٢- كتبت شريعة حمورابي باللغة :
(الأكدية / السومرية / البابلية) .
 - ٣- ظهرت الفلسفة الرواقية في الحضارة :
(الأخرقية / الإسلامية / اليونانية) .
 - ٤- وضع شريعة اشنونا الملك :
(اورو كاجينا / حمورابي / بلا لاما)
 - ٥- تسمى بجيل الحقوق وهي تلك الحقوق التي تقتضيها طبيعة الحياة المعاصرة تسمى :
(طائفه التعاون / مدنيه وسياسيه / طائفه التضامن) .

س ٢ / أجب بعلامة (صح) أو (خطأ) ثم صحح الخطأ أن وجد :

- ١- في المجتمع الروماني انعدمت المساواة بين طبقه الاشراف والعامه امام القانون .
- ٢- أن تنظيم العلاقة بين الحكام والمحكومين كان على أساس مبدأ الشورى الذي امر به الإسلام.
- ٣- تعتبر شريعة حمورابي أول شريعة قانونية إنسانية مدونة باللغة السومرية .
- ٤- حقوق الانسان غير شامله وتقبل الالغاء والتعديل.
- ٥- تناولت قوانين أورنمو فرض الغرامة على المدان بدلاً من العقوبة البدنية .

س ٣ / تشمل الحقوق والحريات الشخصية أنواعاً عدة ترتبط ارتباطاً وثيقاً بحياة الإنسان وديمومتها عدد هذه الحقوق ثم اشرح اثنان منها .

س ٤ / كفل التشريع الاسلامي القواعد الضامنة والحاكمة لحفظ حقوق الأتسان ومنها حق الحياة لأهميتها تكلم عنها.

س ٥ / للحقوق والحريات ضمانات على الصعيد الوطني داخل الدولة عدد هذه الضمانات وأشرحها .

س ٦ / أشرح دور حضارة العراق القديم في إرساء حقوق الإنسان من خلال تناول تدريجي للقوانين التي جاءت بها .

مع تميّاتكم بالبحاح

أ.د. منتظر فاضل سعد
رئيس القسم

م.م. مروة محسن
مدرس المادة

م.م. اسراء خيرى عبد
مدرس المادة



ملاحظة : الإجابة عن خمسة اسئلة فقط وتوزع الدرجات بالتساوي

س1 : اختر رمز الاجابة الصحيحة :

1. ان اصغر وحدة في قياس سعة الذاكرة الرئيسية هي :
أ- KB ب- TB ج- MB د- لا شيء مما ذكر
2. تنقسم ال CPU الى قسمين أساسيين احدهما هو :
أ- GHz ب- GB ج- CU د- لا شيء مما ذكر
3. احد اهم برامج التطبيقات هو برنامج :
أ- ضغط الملفات ب- النسخ الاحتياطي ج- النشر المكتبي د- كل ما ذكر صحيح
4. احد اهم أجهزة ادخال البيانات هو :
أ- الماسح ضوئي ب- قارى الخطوط المتوازية ج- لوحة التأشير د- كل ما ذكر صحيح
5. عملية تنفيذ العمليات الحسابية و المنطقية على البيانات هي :
أ- البرنامج ب- الخوارزمية ج- المعلومات د- لا شيء مما ذكر

س2 : ضع كلمة صح او خطأ أمام العبارات التالية مع تصحيح الخطأ أينما وجد:

1. يتم تخزين نتائج معالجة البيانات في الذاكرة الرئيسية بشكل دائم لاستخدامها لاحقاً.
2. عصا التحكم هي تطبيقات مبرمجة بلغات الكمبيوتر المختلفة تمثل حلقة الاتصال بين الجهاز والمستخدم.
3. الذاكرة الافتراضية هي ذاكرة شبيهة بذاكرة التداول العشوائي غير أنها أكثر سرعة وأقل سعة منها.
4. السماعه وهي جهاز يستخدم لإدخال الأصوات إلى الحاسوب بشكل رقمي من خلال بطاقة الصوت.
5. برامج النسخ الاحتياطي هي احد اهم برامج الخدمات.

س3 : أ- عرف الملف (File) مع توضيح كيفية انشاء الملف على سطح المكتب ؟

ب- ما هي مميزات الحاسوب وضحتها بالتفصيل ؟

س4 : أ- توجد العديد من انظمة تشغيل الحاسوب عددها مع شرح اثنان بالتفصيل ؟

ب- صنف الحاسبات حسب أماكن استخدامها بالتفصيل ؟

س5 : أ- ما المقصود بوحدات الاخراج وما هي اهم هذه الوحدات عددها مع الشرح ؟

ب- ما المقصود بعملية قص الملف أو المجلد؟ مع ذكر طريقتين بالتفصيل لتنفيذ امر القص ؟

س6 : أ- ما هو شريط المهام وما هي محتوياته ؟

ب- ما هي الخطوات المتبعة لترتيب ايقونات سطح المكتب ؟

مع تمنياتنا لكم بالنجاح

د. منتظر فاضل سعد
رئيس القسم

م.م. احمد سامي إبراهيم
مدرس المادة

م.م. عبدالله محمد راضي
مدرس المادة

التاريخ: 2024 / 6 / 23
المادة: نظم المعلومات المصرفية
الوقت: ساعتين



جامعة البصرة
كلية الإدارة والاقتصاد
قسم العلوم المالية والمصرفية



امتحان الكورس الأول
المرحلة الثالثة - الدور الثاني
2024 - 2023

ملاحظة: الإجابة عن أربعة أسئلة فقط (توزع الدرجات بالتساوي)

السؤال الأول:

شركة الأمين يبلغ فيها سعر البيع لأحد المنتجات 20 دولار وكانت التكلفة تقل بـ 25% عن سعر البيع وقد ثبت من الإحصائيات أن هناك ما نسبته 10% من الإنتاج هو إنتاج معيب، ويتم رده من قبل العملاء وتبلغ نفقات الاسترداد التي تتحملها الشركة ربع سعر البيع. علماً بأن الإنتاج السنوي يبلغ 45000 وحدة وقد وجدت الشركة أسلوباً لمعالجة هذه المشكلة من خلال إنشاء نظام آلي لفحص الجودة ويقوم هذا النظام بتصنيف 4% من المنتجات الجيدة على أنها منتجات معيبة (أي أن نسبة الوحدات التي يتم بيعها من الوحدات الجيدة 96%) وتبلغ تكلفة هذا النظام \$3000 سنوياً تدفع كل ستة أشهر.

المطلوب: حساب قيمة المعلومة وهل تنصح الشركة بشراء النظام أم لا؟

السؤال الثاني: اجب عن كلا الفرعين

- أ- وضح مفهوم الدورة المحاسبية مع شرح خطوات هذه الدورة ومراعاة تسلسل الخطوات؟
- ب- وضح مفهوم الـ ERP مع ذكر عوامل النجاح عند تطبيقه؟

السؤال الثالث: ضع كلمة صح أو خطأ مع تصحيح الخطأ إن وجد لكل مما يلي:

- 1- نظم التحكم والتشغيل من أهم الطرق المستخدمة في حماية المعلومات المحاسبية من خلال منع الاختراق.
- 2- دفتر اليومية العامة الهدف منه جميع العمليات المالية من واقع المستندات الفعلية.
- 3- عند مستوى الإدارة الوسطى تكون الأهداف تنفيذية والمعلومات من مصادر داخلية وخارجية.
- 4- عند حالة التأكد التام يجب أخذ المخاطرة بعين الاعتبار عند حساب قيمة المعلومات.
- 5- شركة INFOR من الشركات الرائدة في مجال ERP والتي توفر حلول تكاملية في الجوانب المالية والتجارة الإلكترونية.


السؤال الرابع: اذكر الفرق لاثنتين من المفاهيم التالية

- 1- الأساس النقدي وأساس الاستحقاق
- 2- مخططات تدفق البيانات المنطقية ومخططات تدفق البيانات المادية
- 3- المعالجة اليدوية والمعالجة الآلية في الدورة المحاسبية؟

السؤال الخامس : اختر الإجابة الصحيحة لكل مما يلي :

- ١- احد الوظائف التالية تتحقق خلال مرحلة المدخلات وتتضمن عدة خطوات مثل التصنيف والدمج والتلخيص
- Control Data - Collection Data -
- لا شيء مما ذكر (اذكره)
- ٢- من المتطلبات المهمة عند تطوير أي نظام معين يحل المشاكل في النظام السابق هي :
- التركيز على البيانات الفعلية - اهمال المستندات والتقارير - كلا الخيارين
- ٣- احد صفات المعلومات التي تبين ان المعلومات خالية من الاخطاء والتحيز وتعكس الاحداث بمصادقية
- Relevance - Timeliness -
- لا شيء مما ذكر (اذكره)
- ٤- ان احد مراحل تصميم DFD المتمثلة بتحديد المدخلات والمخرجات وأساليب المعالجة تتجلى في :
- تحديد مجرى سير البيانات - تعليم عناصر DFD - لا شيء مما ذكر (اذكره)
- ٥- عند عدم توفر البيانات اللازمة لحساب النتيجة والمركز المالي بصورة عادة لكي تعبر عن الوضع الحقيقي للمشروع فإن ذلك عيب من عيوب العمل على :-
- أساس الاستحقاق - الأساس النقدي - لا شيء مما ذكر (اذكره)


مع تمنياتنا لكم بالنجاح


رئيس القسم

أ.د. منتظر فاضل البطاط


مدرس المادة

م. احمد عبد الكريم الياسين



م.م. احمد سامي الديراوي



المادة: إدارة المصارف
المرحلة: الثالثة
التاريخ: 24/6/2024
الزمن: ساعتان

اسئلة الامتحان النهائي للكورس الاول
لعام الدراسي 2024/2023 دور ثانى

جامعة البصرة
كلية الإدارة والاقتصاد
قسم العلوم المالية والمصرفية

ملاحظة : اجب عن اربع أسئلة ولكل سؤال 12,5 درجة

س1: اجب على ما يلي : (12,5 درجة)

- أ- ما هي ربحية المصرف وما أهميتها؟ وما هي العوامل التي تؤثر على ربحية المصرف؟
ب- ما هي عملية الخصم في المصارف وما هي عملية إعادة الخصم التي يعتمد عليها البنك المركزي؟ وضح بالشكل كيف تؤثر هذه السياسة على قدرة المصارف وحجم السيولة النقدية؟

س2: اجب على ما يلي : (12,5 درجة)

أ- عرف ميزانية المصرف التجاري مبينا خصوصتها عن ميرانية منشآت الأعمال الأخرى؟

ب- فسر العبارة التالية؟

(يعد البنك المركزي) ب

1- المؤسسة الوحيدة التي تقوم بإصدار النقد في البلاد؟

2- مصرف الحكومة؟

3- مصرف المصارف؟

س3: وضح مع الرسم أسلوب مجمع الأموال في تحقيق أموال المصرف وفق السياسات الثلاثة بموجب البيانات التالية : (12,5 درجة)

الودائع الجارية 950000 دينار , الودائع التوفير 800000 دينار , الودائع الثابتة 650000 , القروض وحق الملكية 500000 دينار .

الاستخدامات	السياسة المتحفظة	السياسة المعتدلة	السياسة المخاطرة
الاحتياطيات الأولية	50%	؟	30%
الاحتياطيات الثانوية	15%	20%	10%
القروض والسلف	؟	40%	؟
الاستثمارات ط , ج	5%	5%	5%

س4: وضح عملية اشتقاق الودائع معتمدا على وديعة مقدارها 8000 مليون دينار , بالحالات التالية : (12,5 درجة)

1- عند عدم وجود احتياطي قانوني؟

2- عند وجود احتياطي قانوني بنسبة 20%؟


3- عند وجود تسرب بنسبة 40%؟


4- استخراج القوة الاستثمارية للوديعة؟


س5 : باعتبارك محلل مالي في مصرف بابل التجاري وطلب منك إجراء تحليل أفقي على البيانات المالية الخاصة بالكشف الدخل للاعوام من 2019 إلى 2022 وكما يلي . (12,5 درجة)

البيان	2019	2020	2021	2022
إيرادات النشاط الجاري	4000	5000	3000	6000
الإيرادات الأخرى	2000	1500	2500	3000
مجموع الإيرادات	6000	6500	5500	9000
مصروفات النشاط الجاري	3000	2000	1500	2500
المصروفات الأخرى	1000	1500	2000	3000
مجموع المصروفات	4000	3500	3500	5500

تمنياتي لكم بالنجاح


 د. منتظر فاضل سعد
 رئيس القسم


 أ.د. نعيم صباح جراح
 مدرس المادة


 أ.م.د. احمد رسن الجهادلي
 مدرس المادة

المرحلة : الثالثة
المادة : الاسواق المالية
التاريخ : 2024/ 6 /26
الوقت : ساعتان



جامعة البصرة
كلية الادارة والاقتصاد
قسم العلوم المالية والمصرفية
الدراسات الصباحية والمسائية

أسئلة الامتحان النهائي/ الفصل الاول / الدور (الثاني)

الاسم الرقم الشعبة

ملاحظة: الإجابة عن اربعة أسئلة فقط وتوزع الدرجة بالتساوي. وتكون الاجابه بالقلم الجاف حصرا.

س1- اجب باختصار على الاتي:

1- عقد الخيار يشبه العقد الاجل والمستقبليات ويختلف عنها بالاتي:-

2- يتم استيعاب رأس المال المعروض في الاسواق من قبل.....

3- يتم التحوط من مخاطر الاسعار من خلال.....

4- ماهي اهم الاوراق المالية التي تتعامل بها الحكومات في اسواق المال؟

5- لماذا تلجأ الشركات الى اسواق المال؟

6- ماهي تقسيمات الاسهم من حيث الحقوق؟

س2: أ- عدد مزايا اصدار الاسهم العادية.

ب- عدد المزايا المشتركة بين الاسهم الممتازة والسندات.

س3: تم اصدار 5000 سهم بقيمة اسمية 90 دينار والارباح المتحققة 100000 دينار ونسبة التوزيعات كانت 50%. المطلوب // حساب القيمة السوقية للسهم.

س4: بلغ صافي الدخل للسنة الحالية 2 مليون دينار وعدد الاسهم المتداولة 1 مليون سهم وزعت الشركة ارباح بنسبة 50% ومعدل العائد المطلوب للشركة 20%.

المطلوب // حساب القيمة الحقيقية للسهم في حالة:

1- النمو الصفري.

2- حالة النمو الثابت 10%.

3- حالة النمو المتعدد بمعدل نمو للسنتين القادمتين 20% ومعدل نمو 5%، علما ان معدل الفائدة للقيمة

الحالية لمعدل العائد المطلوب 20% للسنة الاولى 0.833 والسنة الثانية 0.694.

س5: للحصول على قرض لمدة 7 سنوات تم اصدار 14000 سند بقيمة اسمية 80 دينار للسند الواحد وبسعر فائدة

6% سنويا وبلغت عمولة المصرف 2% والمصاريف الاخرى 7000 دينار وكلفة رهن الاصول 2500 دينار.

المطلوب // 1- حساب تكلفة التمويل.

2- وضع الجدوى اذا علمت بان معدل الاقتراض في المصارف 8%.

مع تمنياتي لكم بالنجاح

أ.د. منتظر فاضل سعد
رئيس القسم

أ.د. احمد جاسم محمد
مدرس المادة

المرحلة :الثالثة
المادة :بحوث عمليات
التاريخ : 27 / 6 / 2024
الوقت : ساعتان
العام الدراسي 2023 – 2024



جامعة البصرة
كلية الادارة والاقتصاد
قسم العلوم المالية والمصرفية

أسئلة الامتحان النهائي للكورس الاول / الدور الثاني

ملاحظة : الاجابة عن اربع اسئلة فقط وتوزع الدرجة بالتساوي لكل سؤال (12.5 درجة) :
السؤال الاول : يعد الشكل الاعتيادي واحد من اشكال نماذج البرمجة الخطية , وضح ابرز مميزات (خصائص هذا الشكل) ؟

السؤال الثاني :

اوجد الحل الامثل لنموذج الرياضي الاتي مستخدما الطريقة المبسطة Simplex Method

$$\text{Max Profit} = 5 X_1 + 6 X_2$$

S.to

$$2 X_1 + 3 X_2 \leq 30$$

$$5 X_1 + 4 X_2 \leq 60$$

$$X_1, X_2 \geq 0$$

السؤال الثالث : حول النموذج الاتي الى الشكل الاعتيادي

$$\text{Min cost} = -2 X_1 + 4 X_2$$

S.to

$$X_1 + 7 X_2 = 21$$

$$3 X_1 + 9 X_2 \leq 36$$

$$|6 X_1 - 5 X_2| \leq 40$$


$$X_1, X_2 \geq 0$$

السؤال الرابع : ضع كلمة صح او خطأ لكل من العبارات الاتية :

1. في الطريقة البيانية تكون منطقة الحلول المثلى في حال دالة الهدف من نوع Min cost في الجزء الاسفل من الرسم ؟
2. النقطة (10,15) هي احدى النقاط الانتاجية لشركة النور المتخصصة في صناعة الابواب والتي تسعى الى تعظيم الارباح , فعند هذه النقطة يبلغ انتاج الشركة من النوع الثالث 15 وحدة فقط
3. في الطريقة المبسطة يكون المتغير الداخل للحل هو المتغير الذي يقابل اكبر رقم سالب في صف Z .
4. في الشكل العام للنموذج البرمجة الخطية يشترط ان تكون دالة الهدف من نوع Max profit حصرا .
5. تُعتمد الطريقة البيانية في ايجاد الحلول المثلى عند احتواء النموذج على متغيرين اثنين فقط .
6. النقطة (20,0) هي نقطة انتاج تابعة لشركة البصرة المتخصصة في صناعة التمور وهي نقطة رأسية تقع على المحور X2 .


السؤال الخامس : شركة الخور المتخصصة في صناعة الاجهزة الكهربائية تنتج نوعان وتسعى الى تقليل كلف انتاجها , حيث يكلف انتاج النوع الاول 20 دولار و الثاني 30 دولار , فاذا علمت ان انتاج الشركة يمر بمرحلتين ففي المرحلة الاولى تمتلك الشركة ما لا يقل عن 90 ساعة عمل ويحتاج النوع الاول ل 5 ساعات عمل و الثاني ل 10 ساعات عمل , اما في المرحلة الانتاجية الثانية فتمتلك الشركة ما لا يقل عن 48 ساعة عمل ويحتاج النوع الاول ل 4 ساعات عمل و الثاني يحتاج الى 3 ساعات عمل

المطلوب // استخراج النقاط الانتاجية للشركة الخور مستخدما الطريقة البيانية ..


أ.د. منتظر فاضل سعد

رئيس القسم

تمنياتنا لكم بالنجاح والتوفيق


م.م. حسن حيدر عبدالكريم

مدرس المادة



المادة: المحاسبة التكاليف
المرحلة: الثالثة

التاريخ: 30 / 6 / 2024
الدور: الثاني

أسئلة الامتحان النهائي للفصل الأول للعام الدراسي
2024/2023

جامعة البصرة
كلية الإدارة والاقتصاد
قسم العلوم المالية والمصرفية

ملاحظة: ١. الإجابة عن أربعة أسئلة فقط وتوزع الدرجات بالتساوي بين الأسئلة. لكل سؤال (12.5) درجة
٢. يحق للطلاب الإجابة بالقلم الرصاص او القلم الجاف الأسود او الأزرق حصرا.

السؤال الأول: اختر الإجابة الصحيحة مع بيان أسباب الاختيار

٢. تبويب التكاليف متغيرة وثابتة حسب علاقتها ب: أ. غرض التكلفة ب. وحدة التكلفة ج. كلا الاجابتين صحيحة د. كلا الاجابتين خاطئة	١. للحصول على بيانات كلفوية اكثر موضوعية يفضل: أ. فصل سجلات محاسبة التكاليف عن المحاسبة المالية ب. دمج سجلات محاسبة التكاليف عن المحاسبة المالية ج. كلا الاجابتين صحيحة د. كلا الاجابتين خاطئة
٤. يمكن ان يتعرض المصرف الى خسائر كبيرة بسبب التزامه بدفع: أ. تكاليف متغيرة عالية ب. تكاليف ثابتة عالية ج. كلا الاجابتين صحيحة. د. كلا الاجابتين خاطئة	٣. تقسم (expenditure) النفقات: أ. تكلفة ومصروف. ب. مصروف واصل ج. لاشيء مما ذكر
	٥. يقصد ب (Relevant range) المدى الملئم أ. أي عامل يؤثر على التكلفة ب. العامل الرئيسي المسبب للتكلفة ج. كلا الاجابتين صحيحة. د. كلا الاجابتين خاطئة

السؤال الثاني: البيانات الاتية تخص أحد المصارف التجارية لشهر نيسان ٢٠٢٢.

رابعاً: المصروفات الأخرى	أولاً: تكلفة العمل
م. الكهرباء ١٨٠٠٠ (٥٠٪ متغيرة، توزع بالتساوي بين الأقسام)	- رواتب الإدارة العامة للمصرف ١٢٠٠٠٠
اندثار الموجودات ٢٤٠٠٠ (يوزع بالتساوي)	- رواتب شؤون العاملين ٥٠٠٠٠
تامين المبنى ١٣٠٠٠	- رواتب مدراء الأقسام الفنية. ٤٠٠٠٠ (٥٠٪ ثابتة)
أجور التدقيق ١٠٠٠٠	- رواتب قسم التسويق ٦٠٠ (٣٠٪ متغيرة)
م. اعلان. ١٢٠٠٠	ثانياً: تكلفة الأموال
خامساً:	ثالثاً: المواد
الفوائد والعمولات الدائنة ٦٩٢٠٠٠	- قرطاسية متنوعة للأقسام الفنية ٢٠٠٠٠ (٧٠٪ ثابتة)
	- مواد الصيانة. ٢٠٠٠٠ (٦٠٪ متغيرة)
	- قرطاسية ومواد مختلفة للإدارة ١٤٠٠٠

المطلوب: تبويب عناصر التكاليف تبويبا وظيفيا وحسب علاقتها بوحدة الخدمة المصرفية وحجم النشاط.

السؤال الثالث: توفرت لديك البيانات الاتية عن أحد المصارف التجارية خلال الربع الأول من سنة ٢٠٢٠.

- حجم النشاط (٢٥٠، ٤٥٠، ٣٥٠، ٢٠٠) وحدة على التوالي.
 - متوسط التكلفة المتغيرة ١٥ دينار / الوحدة
 - اجمالي التكاليف الثابتة ١٠٠٠٠ دينار
- المطلوب: استخراج اجمالي ومتوسط التكاليف الكلية للفترة أعلاه.

السؤال الرابع: إذا علمت ان اجمالي التكاليف لمصرف البيان لشهر تموز ٢٠٢٢ بلغت (250000000) دينار. وقد توفرت لديك المعلومات الآتية:

1. التكاليف الإنتاجية المباشرة تبلغ (50%) من اجمالي التكاليف.
2. التكاليف الإنتاجية غير المباشرة المتغيرة (15%) من اجمالي التكاليف.
3. التكاليف الإنتاجية غير المباشرة الثابتة (10%) من اجمالي التكاليف.
4. التكاليف التسويقية المتغيرة (9%) من اجمالي التكاليف.
5. التكاليف التسويقية الثابتة (4%) من اجمالي التكاليف.
6. التكاليف الادارية المتغيرة (2%) من اجمالي التكاليف.
7. التكاليف الادارية الثابتة (10%) من اجمالي التكاليف.
8. الفوائد والعمولات الدائنة (240000000) دينار.

المطلوب: اعداد كشف التكاليف وكشف الدخل للفترة اعلاه.


السؤال الخامس: الاتي بيانات التكاليف ل احد المصارف التجارية لشهر كانون الثاني ٢٠١٩.


مجموع التكاليف الثابتة	متوسط التكاليف الثابتة	مجموع التكاليف المتغيرة	متوسط التكلفة المتغيرة	مجموع التكاليف الكلية	حجم النشاط (عدد الخدمات المقدمة)
؟	١٢٠	؟	؟	؟	٢٠٠
؟	؟	؟	٢٥٠	٨٩٠٠٠	؟

علما ان المدى الملازم يبدأ من صفر ولغاية ٤٠٠ وحدة

المطلوب: اكمال بيانات الكشف اعلاه مع ذكر كل المعادلات اللازمة لإكمال الكشف اعلاه

مع تمنياتنا لكم بالنجاح الباهر


رئيس القسم
د. منتظر فاضل سعد


مدرس المادة
حسام احمد علي



University of Basra
College of Administration and Economics
Finance and Banking Department

Date: 1/7/2024
Time: Two hours

Subject: English language
Class: 3

Final Exam

Note: each question carries 10 marks

Q1/:A) Choose the right option

- 1- They had a lovely holiday. They ----- a lovely holiday.
a- didn't has b- didn't have c- didn't had
- 2- Did you have a good time? Yes-----.
a- I didn't b- I did c- I do
- 3- Henry works -----a taxi driver.
a- for b- as c- on
- 4- Go on -----.
a- the internet b- a prize c- a business
- 5- Do -----.
a- home b- your best c- an appointment

B): Match words in A with a grammar term in B

A	B
1- ----- on, at, under	a- infinitive with <i>to</i>
2 ----- a	b - indefinite article
3 ----- to like	C – comparative adjective
4 ----- bigger, older	d- preposition
5- -----nice, pretty	e - adjectives

Q2) Answer A or B

A): Put the verbs in brackets in the *present simple passive*.

- 1- Street at works ----- (**associate**) with the risk of heart disease.
- 2- Open-plan offices ----- (**dislike**) by 40% of workers.
- 3- Team-bonding days ----- (**despise**) by nearly everyone.
- 4- 45% of work time ----- (**waste**) on chat, drinking tea and personal calls
- 5- 40% of Internet use in the office ----- (**not relate**) to work

B): Correct the information in these sentences (**make negatives**).

- 1- Annie lives in Irland. She ----- live in Irland.
- 2- Her husband grows fruit and vegetable. He -----grow fruit and vegetable.
- 3- Annie paints portraits. She -----paint portraits.
- 4- She is painting a series of wild birds. She ----- painting a series of wild birds.
- 5- The people on Lohan are employed in farming. The people on Lohan ----- employed in farming.

Q3/: Match a word in A with a line in B.

A	B
1- ----- go on	a- an appointment
2- ----- make	b- the internet
3- ----- win	c- a business
4- ----- start	d- a prize
5- ----- take	e- a photograph

Q4): A) Are the following **bold words** grammatically true (T) or false (F).

- 1- I am **self-employing**. I don't work for anyone else.
- 2- I spend more than I earn. I must **economize**.
- 3- Jane is a **musician**.
- 4- **How long** is the international space station flying at?
- 5- **Where** was oil first discovered in Suadi Arabia?

B): Match the adjectives in A with their opposite in B

A	B
1- ----- mean	a- unselfish
2----- hard-working	b- lazy
3----- selfish	c- unsociable
4----- sociable	d- optimistic
5----- pessimistic	e- generous

Q5/ Answer A or B

A) Complete the sentences with one of the following words.


(belongs, consists, depends, polite, cheerful)


- 1- This book----- to me.
- 2- The Japanese have a reputation for being -----.
- 3- Jane's always happy and smiling. She's a ----- person.
- 4- Water ----- of hydrogen and oxygen.
- 5- We might have a picnic. It ----- on the weather.

B): Is the verbs in bold used as an auxiliary verb (A) or a full verb (F)

- 1- -----**Have** you ever been to China?
- 2- -----They **have** three children.
- 3- ----- I **do** my homework every night.
- 4- ----- they **are** lovely children.
- 5- ----- I **was** at home.

GOOD LUCK


Dr. Muntather F. Saad
Head of the Department


Dr. Hussein J. Kadhum
Instructor

المادة: محفظة استثمارية
المرحلة: الثالثة
الزمن: ساعتين



اسئلة امتحان الكورس الاول الدور الثاني للعام
الدراسي 2024-2023



جامعة البصرة
كلية الإدارة والاقتصاد
قسم ادارة العلوم المالية والمصرفية
الدراسة الصباحي والمسائي

*ملاحظة الإجابة عن خمسة أسئلة فقط

س1/وضح اهم اهداف المحفظة الاستثمارية .

س2/ بلغ معدل العائد السنوي على الورقة 1 خلال ثلاث سنوات (15,18,20) وعلى الورقة 2 خلال ثلاث سنوات (9,13,17) .

مطلوب حساب / 1- معامل اختلاف 2- مخاطر محفظة اذا علمت ان الاستثمار الكلي في المحفظة = 150 منها 80 مستثمرة في الورقة 1 ، 70 مستثمرة في الورقة 2

س3/أ- ماهي أنواع القرارات التي تتخذها إدارة المحفظة الاستثمارية وضحها بالتفصيل

ب-لغرض بناء محفظة استثمارية مثلى لا بد ان ناخذ بنظر الاعتبار جملة من المحددات او العوامل التي تؤثر في عملية بناء محفظة وضح بالتفصيل العوامل المؤثرة في بناء المحفظة الاستثمارية .

س4/اذا توفرت لديك البيانات التالية الخاصة بمحفظتين ماليتين والسوق كما مبين في الجدول

البيان	محفظة 1	محفظة 2	السوق	RF
عائد	16	18	14	6
انحراف معياري	6.3	6.6	6.7	
معامل بيتا	0.6	0.7	1	

مطلوب حساب مؤشر شارب وترينور لكل من محفظتين والسوق .

س5/يبيع مصرف الرافدين أسهمه في السوق الان بمبلغ (6.250) دينار للسهم الواحد ومن المتوقع ان يصل سرعة بعد اربع سنوات الى (8.500) دينار فاذا تم توزيع أرباح بمقدار (0.450) دينار المطلوب حساب عائد فترة الاحتفاظ .

س6/زيادة عدد الأوراق المالية المختارة عشوائيا ضمن المحفظة يترتب عليها اثار سلبية وضح اهم الصعوبات التي تواجه التنويع الساذج .

تمنياتنا لكم بالنجاح

أ.د. منتظر فاضل سعد
رئيس القسم ومدرس المادة

م.م. عذراء جاسب عيادي
مدرس المادة



المادة: المحاسبة الإدارية
المرحلة: الرابعة
التاريخ: ٢٣ / ٦ / 2023
الزمن: (٢) ساعة

أسئلة امتحان الكورس الاول الدور (٨٠ يومياً)
لعام الدراسي 2024/2023

جامعة البصرة
كلية الإدارة والاقتصاد
قسم العلوم المالية والمصرفية
الدراسة الصباحية المسائية

ملاحظة: الاجابة على اربعة اسئلة فقط ، تقسم الدرجة بتساوي ، احسن الخط والاجابة والترتيب

س1/ عرف المحاسبة الادارية ، موضحاً اهمية العلاقة المشتركة بينها وبين محاسبة التكاليف ؟

س2/ اجب بصح او خطأ مع تصحيح الخطأ ان وجد: (الاجابة عن 7 نقاط فقط)

1. تخدم المحاسبة الادارية جميع المستويات الادارية في الشركة.
2. تلتزم المحاسبة الادارية بالمبادئ والفروض المحاسبية في عملية معالجة المعلومات وتقديمها للاطراف المستفيدة.
3. تتغير التكاليف المتغيرة للوحدة مع التغير في حجم النشاط.
4. الخسارة هي الجزء المستفد من التكلفة والتي لا تقابلها منافع حالية او مستقبلية.
5. تعتمد المحاسبة الادارية في مرحلة المعالجة (العمليات) على التحليل والتفسير بدلاً من التسجيل في سجل اليومية.
6. ان الايرادات والتكاليف المتغيرة يتناسبان طردياً مع حجم المبيعات.
7. اذا انخفضت نقطة التعادل فان هامش الامان ينخفض ايضاً.
8. من اجل تقدير الربح عند مستويات مختلفة من المبيعات . بإمكان المدير اخذ الزيادة في الوحدات المباعة بعد نقطة التعادل وضرب تلك الوحدات في هامش المساهمة.

س3/ اجب عن كل مما يلي:

- 1- اذا كانت التكاليف الثابتة 10000 دينار والتكاليف المتغيرة لانتاج علبة الصلصة 5 دينار ، وسعر بيع الوحدة 10 دينار . فما هو حجم الانتاج الذي يعطي كمية هامش الامان قدرها 10000 وحدة ، وما هي نسبة هامش الامان ؟ (أربع درجات).
- 2- اذا بلغ سعر بيع الوحدة 100 دينار والكلفة المتغيرة للوحدة 68 دينار ، وعدد الوحدات المباعة 6500 وحدة والربح المستهدف 24000 دينار ، اوجد التكاليف الثابتة ؟ (أربع درجات).
- 3- اذا كان سعر البيع للوحدة 14 دينار والكلفة المتغيرة للوحدة 10 دينار والتكاليف الثابتة 10000 دينار وعدد الوحدات المنتظر بيعها عند سعر البيع الحالي 3000 وحدة ، هل يمكن للإدارة تخفيض سعر بيعها للوحدة خصوصاً وان لديها طاقة فائضة غير فعالة تسمح بانتاج 10000 وحدة دون اي تغير في التكاليف ، كما ان دراسة السوق تظهر ان تخفيض سعر البيع الى 12 دينار للوحدة سينجم عنه ارتفاع في عدد الوحدات الى 8000 وحدة (أربع درجات).
- 4- إذا علمت ان سعر البيع لمنتج معين 750 دينار/ وحدة، والتكلفة المتغيرة 450 دينار/ وحدة، في حين كانت التكاليف الثابتة للفترة (12,000,000) دينار، فما هو حجم هامش الأمان إذا علمت ان حجم المبيعات كان (50,000) وحدة. (اربع درجات ونصف)

س4 / اكمل الارقام الناقصة في كل الحالات التالية، مع العلم ان كل حالة مستقلة عن الاخرى:

الحالة	الوحدات المباعة	قيمة المبيعات	التكاليف المتغيرة	عائد المساهمة للوحدة	التكاليف الثابتة	صافي الدخل
1	15000	180000	120000	50000
2	100000	10	32000	8000
3	10000	70000	13	12000
4	6000	300000	100000	8000


س5/ إذا كان سعر بيع منتج معين 1000 دينار/ وحدة، والكلفة المتغيرة للوحدة 700 دينار/ وحدة، والتكاليف الثابتة للفترة 2,100,000 دينار، ومستوى النشاط الحالي 8000 وحدة.


1. ما مقدار الربح عند مستوى النشاط الحالي، بطريقة التعادل (وحدات، مبالغ) وكشف الدخل.
2. إذا ارادت الشركة تحقيق ربح قدره 360000 دينار فما هو مستوى النشاط المطلوب بالوحدات.
3. إذا ارادت الشركة تحقيق زيادة في الربح الحالي قدرها 150000 دينار فما هو مستوى النشاط المطلوب بالمبالغ. (عزز إجابتك بكشف الدخل)

4. اقترح مدير التسويق تخفيض سعر البيع مما سيؤدي إلى تغيير عائد المساهمة بمقدار 40 دينار وذلك سيؤدي إلى زيادة مستوى النشاط بنسبة 20% عن المستوى الحالي، إلا إن هنالك حاجة لزيادة التكاليف الثابتة إلى 2,150,000 دينار. قيم مقترح مدير التسويق في ضوء الوضع الحالي مسخدماً الأسلوب التفاضلي. (عزز إجابتك بكشف الدخل للوضع الحالي والمقترحة).

5. اقترح مدير الإنتاج اعتماد سياسة إنتاجية جديدة تقلل من الكلفة متغيرة مما يؤدي إلى تغيير عائد المساهمة إلى 325 دينار/وحدة، وتخفيض مستوى النشاط بمقدار 500 وحدة، إلا إن ذلك يتطلب زيادة التكاليف الثابتة بنسبة 1%. وبصفتك المحاسب الإداري للشركة طلب منك مجلس الإدارة عليك تقييم مقترح مديري الإنتاج في ضوء الوضع الحالي مستخدماً الأسلوب التفاضلي. (عزز إجابتك بكشف الدخل للوضع الحالي والمقترحة)

مع التمنيات لكم بالموفقية والنجاح


أ.د. منتظر فاضل سعد
رئيس القسم


م. بان توفيق نجم
مدرستا المادة

ملاحظة: الإجابة عن خمسة أسئلة فقط , لكل سؤال عشرة درجات

السؤال الأول: اختيار الإجابة الصحيحة .

- 1- خطاب الضمان على المكشوف هو خطاب ضمان: أ- مغطى بغطاء عيني ب- غير مغطى ج- مغطى بغطاء نقدي .
- 2- قانون التجارة العراقي النافذ رقم : أ- 36 لسنة 2004 ب- 56 لسنة 2004 ج- 30 لسنة 1984
- 3- يطلق على المبلغ المودع في المصرف : أ- حساب ب- وديعة ج- وديعة بدون تفويض بالاستثمار
- 4- عندما يكون الأمر والمصرف الضامن والمستفيد من نفس البلد فأطراف خطاب الضمان: أ- اثنان ب- ثلاثة ج- اربعة .
- 5- الورقة التجارية التي يمكن التنازل عنها للغير هي: أ- الصك ب- مستندات الشحن ج- دفتر التوفير .
- 6- عندما لا يكون المصدر والمصرف المراسل واثقاً من المصرف فاتح الاعتماد يتم اختيار اعتماد: أ- معزز ب- غير معزز ج- دوار .
- 7- الشخص الذي يكفله المصرف الضامن, هو: أ- الأمر ب- المستفيد ج- المصرف المراسل .
- 8- بمجرد إيداع العميل لأمواله فيه لا يمكنه السحب والإيداع قبل حلول أجله: أ- ودائع لأجل ب- اعتماد لأجل ج- كلاهما .
- 9- يطلق على خطاب الضمان: أ- الائتمان التعهدي ب- الكفالة المصرفية ج- كلاهما.
- 10- لا يوجد تعريف جامع مانع للعمليات المصرفية لأنها: أ- متجددة ومتنوعة ب- الابتكارات مستمرة ج- كلاهما .

السؤال الثاني: الإجابة بكلمة (صح) أو (خطأ)

- 1- تعتبر الكمبيالة عند تقديمها للمصرف نوع من أنواع السندات برسم التحصيل.
- 2- الرضا والارادة من شروط العقد الصحيح .
- 3- السحب على المكشوف حساب جاري دائن.
- 4- توجد خطابات ضمان مقيدة بشروط معينة, وخطابات ضمان غير مقيدة بشروط.
- 5- إن المبلغ المودع في الحساب المصرفي يطلق عليه لفظ وديعة .
- 6- مستندات الشحن ضمان لحقوق المستورد والمصدر .

- 7- يصدر المصرف خطاب الضمان على المكشوف مقابل غطاء يمكن استثماره للحصول على أرباح .
- 8- - يعتبر الصك وسيلة إثبات يوفر ضماناً قانونياً لصاحب الحساب في حال عدم وجود رصيد كافي .
- 9- الحسابات المصرفية التي يستثمر فيها المال المودع لمرة واحدة ولمدة معينة هي حسابات التوفير .
- 10- إقراض الدول من العمليات المصرفية الحديثة .

السؤال الثالث: الإجابة عما يأتي:


- أ- وضح المقصود بـ كسر الوديعة , وفي أي نوع من العمليات المصرفية هو ؟
- ب- لماذا سمي حساب الودائع الثابتة بهذا الاسم ؟ وماهي أنواعه ؟

السؤال الرابع : الإجابة عما يأتي:


- أ- ما هي أنواع الحساب الجاري ؟ وما هو الفرق بينها ؟
- ب- ما المقصود بقيد التسوية ومتى يتم اللجوء إليه في حالتى السحب والإيداع ؟
- السؤال الخامس: في الجدول حركة حساب توفير في مصرف البصرة خلال سنة 2023, علماً أن سعر الفائدة 6% , احسب مبلغ الفائدة المستحق والرصيد عند نهاية السنة المالية .

التاريخ	الحركة
5/20	إيداع 100000
7/10	إيداع 50000
9/13	سحب 50000
11/14	إيداع 100000
12/15	سحب 25000


- السؤال السادس: أ- للعمليات المصرفية مفهومان عرفهما و وضح الفرق بينهما .
- ب- ماهي العوامل التي أدت إلى التحول نحو المصارف الشاملة .
- نرجوا لكم التفوق .



أ.د. منتظر فاضل سعد
رئيس القسم



أ.م.د. علي قاسم العقبي
مدرس المادة



م. م سارة عباس
مدرسة المادة

المرحلة : الرابعة
المادة : المصارف الاسلامية
التاريخ : 2024/1-6/126
الوقت : ساعتان



جامعة البصرة
كلية الادارة والاقتصاد
قسم العلوم المالية والمصرفية
الدراسات الصباحية والمسائية

أسئلة الامتحان النهائي / الفصل الاول / الدور (الثاني)

الاسم الرقم الشعبة

ملاحظة: الإجابة عن خمسة أسئلة فقط وتوزع الدرجة بالتساوي. وتكون الاجابه بالقلم الجاف حصرا.

س1- ماهي اهم مبادئ الاقتصاد الاسلامي وماهي اهدافه، وضحا بالتفصيل؟

س2: هناك العديد من الاسباب التي ادت الى انفجار الازمة المالية العالمية عام 2008، وضحا بالتفصيل؟

س3: أ- ماهي اهم القرارات التي صدرت عن المؤتمر الثاني لمجمع البحوث الاسلامية الذي انعقد في القاهرة عام 1965؟

ب- تعد قاعدتي الغنم بالغرم والخراج بالضمان من اهم الاسس التي تعمل عليها المصارف الاسلامية، وضحا بالتفصيل؟

س4: ماهي اهم الموارد الذاتية وغير الذاتية للمصرف الاسلامي، اشرحها بالتفصيل؟

س5: أ- يعد التمويل بالمشاركة من صيغ الاستثمارات في المصارف الاسلامية، وضحه بالتفصيل مع اهم شروط صحة العقد؟

ب- ماهي المضاربة وماهي شروط صحة عقد المضاربة وضحا بالتفصيل؟

س6: أ- ماهي اهم الهيئات المشرفة على عمل المصارف الاسلامية؟

ب- عرف المرابحة وانواعها واهم شروطها؟

مع تمنياتي لكم بالنجاح

أ.د. منتظر فاضل سعد
رئيس القسم

أ.م.فايزة حسن مسجت
مدرس المادة

المرحلة : الرابعة
المادة : الاخلاقيات البحث
التاريخ : ٢٠٢٤ / \ /
الوقت : ساعتان



كلية الادارة والاقتصاد
قسم العلوم المالية والمصرفية
الدراسة الصباحية والمسائية

اسئلة الامتحان النهائي الكورس الاول الدور (السن) للعام الدراسي ٢٠٢٣ - ٢٠٢٤

ملاحظة : الاجابة عن خمسة اسئلة فقط وتوزع الدرجة بالتساوي .

س١ / عرف خمسة مما يأتي

- ١- دراسة الحالة
- ٢- مشروع بحث التخرج
- ٣- الاستبيان
- ٤- المقابلة
- ٥- البحوث التشخيصية
- ٦- أداة البحث

س٢ / املئ الفراغات بما يناسبها من عبارات

- ١- من اهم الأدوات والوسائل التي يتم من خلالها جمع البيانات هي ----- و -----
- ٢- هنالك طريقتان لصياغة المشكلة هما ----- و -----
- ٣- تقسم البحوث اعتمادا على الأساليب المستخدمة فيها الى ----- و -----
- ٤- تتضمن أسئلة المقابلة عدة أنواع منها ----- و -----
- ٥- تتضمن منهجية البحث ----- و -----

س٣ / اختر الإجابة الصحيحة من بين الاكواس

١. من اهداف البحث العلمي التفصيلية
أ - اختراع مكون جديد ب - الوقت الكافي لإنجاز البحث ج - لاشيء مما ذكر
٢. تتضمن صفحات البحث الأولى
أ - صفحة المحتويات ب - نموذج الدراسة ج - نتائج الدراسة
٣. تحتوي قائمة الملاحق على
أ - للجداول الإحصائية ب - الرسائل والاطاريح ج - الصحف والمجلات
٤. من خصائص البحث العلمي
أ - المنهجية ب - الرغبة والتخصص ج - النظام والدقة والضبط
٥. البحوث التي تبحث المشكلات والظواهر على أساس المنهج التجريبي هي
أ - بحوث تطبيقية ب - بحوث تجريبية ج - بحوث وصفية

س ٤ / اجب عما ياتي :


١. ما المقصود بمشكلة البحث ؟
 ٢. تصاغ مشكلة البحث بطريقتين ، ماهما ؟ وضحهما
 ٣. توجد معايير تصاغ بها مشكلة البحث ، ماهي تلك المعايير؟ وضحها
 ٤. هناك معايير لتقويم مشكلة البحث ، ماهي تلك المعايير؟ وضحها .
- س ٥ / لكل بحث فرضيات ونتائج ، فالفرضيات لها شروط يجب على الباحث الاخذ بها عند صياغتها ، فما هي تلك الشروط؟ وضحها .

ولكل بحث او دراسة نتائج ، فماذا تتضمن نتائج الدراسة ؟ وضحها .

- ب. ١ . ما المقصود بالبحث العلمي ؟
- ٢ . وما هو الغرض الرئيسي منه ؟ وضح
- ٣ . ماهي اهدافه التفصيلية ؟ وضحها


س ٦ / دراسة الحالة هي احد وسائل البحث العلمي في جمع البيانات والمعلومات . المطلوب :


- ١ . ما هي دراسة الحالة ؟ وضح
- ٢ . ماهي خطوات دراسة الحالة ؟ وضحها
- ٣ . بيان خصائص دراسة الحالة
- ٤ . ما هي انواع دراسة الحالة ؟ وضحها بالتفصيل .




رئيس القسم
د. د. منتظر فاضل البطاط

مدرستا المادة


م.د. ازهار عبد اللطيف حسين


م.د. سهام غالي حمود



المرحلة: الرابعة
المادة: القياس الاقتصادي



جامعة البصرة

كلية الادارة والاقتصاد

التاريخ: ٢٠٢٤/٧/٢٠

قسم العلوم المالية والمصرفية
الدراسات الصباحية والمسائية

الزمن: ساعتين

اسئلة الامتحان الكورس الاول (الدور الثاني) للعام الدراسي ٢٠٢٣/٢٠٢٤

مراجعة: الرجاء عن محسب اسئلة. توزع الامتحان بالتساوي
اسم الطالب..... الشعبة..... والرقم.....
س١: اكتب الصيغ الاحصائية لمعاملات الارتباط الخطي الجزئية؟ ثم وضح حدود قيمته الرقمية؟ ثم بين الحالات الممكنة لتلك القيم؟

س٢: أ- عرف OLS

ب- الصيغة الرياضية OLS في نماذج الانحدار الخطي البسيط والمتعدد؟

س٣: ما هي الصيغ الاحصائية لكل من :

١- معامل التحديد المتعدد غير المعدل ؟

٢- معامل التحديد المتعدد المعدل (المصحح)؟

س٤: من البيانات التالية:

n	1	2	3	4	5
Yi	1	4	5	6	9
Xi	5	7	8	9	11

استخرج الاتي : $1 - \widehat{b}_0, \widehat{b}_1$ $2 - \widehat{Y}_i$

س٥: من البيانات التالية :

n	1	2	3	4	5
Yi	1	4	2	3	5
Xi	2	4	7	5	7

1- r 2- R²

استخرج الاتي:

س٦: اذا كانت نتائج تقدير معادلة الانحدار الخطي المتعدد على الشكل التالي :

$$\widehat{Y}_i = 6.26 - 0.38X_1 + 0.45 X_2$$

$$S_{\widehat{b}}^2 = (0.02) \quad (0.01)$$

المطلوب : اختبار المعنوية الجزئية للمعالم المقدره $\widehat{b}_1, \widehat{b}_2$ علما ان (t) الجدولية تساوي (2.179) ؟

أ.د. منتظر فاضل سعد
رئيس القسم

م.د. طالب حسن
مدرس المادة

م.د. طالب هاشم
مدرس المادة

المادة: معايير مصرفية

المرحلة: الرابعة

التاريخ: ٢٠٢٤/٧/١٠

الوقت: ساعتان



وزارة التعليم العالي والبحث العلمي

جامعة البصرة

كلية الادارة والاقتصاد

قسم العلوم المالية والمصرفية

الدراسة الصباحية والمسائية

اسئلة الامتحان النهائي الكورس الاول (الدور الثاني) للعام ٢٠٢٣/٢٠٢٤

ملاحظة : الاجابة عن اربع اسئلة فقط وتكون الاجابة بالقلم الجاف حصراً :

س ١ / من هم مستخدمي القوائم المالية ؟ وما هي احتياجاتهم من المعلومات ؟

س ٢ / في ضوء دراستك للمعيار المحاسبي الدولي (IAS27) اجب عن النقاط التالية :

١. تكلم بنبذة مختصرة عن المعيار وطبيعته .

٢. ماهو هدف المعيار .

٣. اين يتم تطبيق هذا المعيار .

س ٣/ ماهي الخصائص النوعية للمعلومات المحاسبية ؟ عددها مع الشرح بشكل مفصل ؟

س ٤/ ماهي الشروط الواجب توفرها عند اعداد القوائم المالية الموحدة ؟ وماهي الحالات التي تعفى فيها الشركات

القابضة من اعداد قوائم مالية موحدة ؟

س ٥/ تكلم عن قائمة الدخل مركزاً على شكل ومحتوى القائمة وابرز اهدافها ؟

د. ا.د منتظر فاضل سعد

رئيس القسم

م.م زينب عبدالعزيز عبدالله

مدرس المادة

م.م مرتضى عبدالحسين عبدالكريم

مدرس المادة